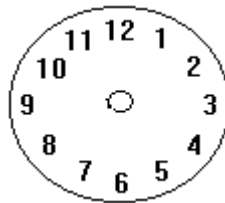


WIE SPÄT IST ES?

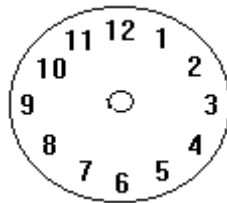
Schreib wie spät es ist



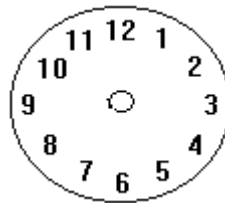
Zeichne die Zeiger



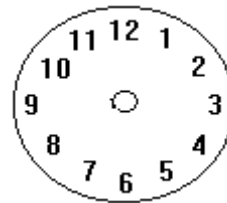
es ist zwölf Uhr



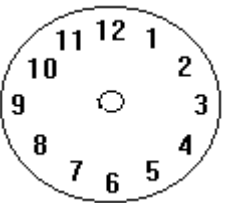
Es ist zehn nach zehn



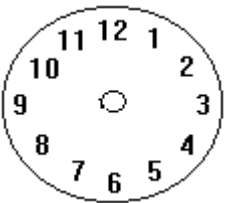
Es ist zwanzig vor zwei.



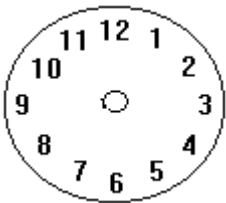
Es ist Viertel nach zehn.



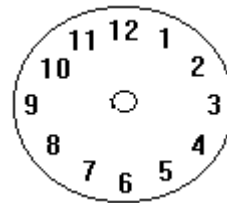
Es ist fünf nach eins



Es ist halb acht



Es ist zehn vor zwölf



Es ist Viertel nach vier

